




CALCULS D'AIRES ★

1

Classe les surfaces de la plus petite aire (3) à la plus grande aire (1).



...



...



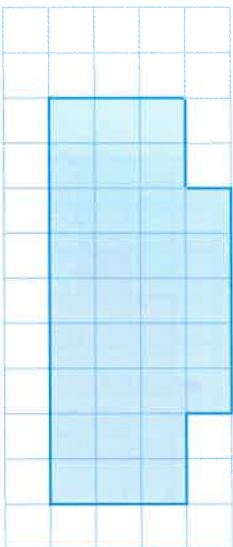
...



CALCULS D'AIRES ★

3

Calcule l'aire de la figure.




A carreaux



CALCULS D'AIRES ★

4

Calcule l'aire de la figure.



A carreaux



CALCULS D'AIRES ★

2

Classe les surfaces de la plus petite aire (3) à la plus grande aire (1).



...



...



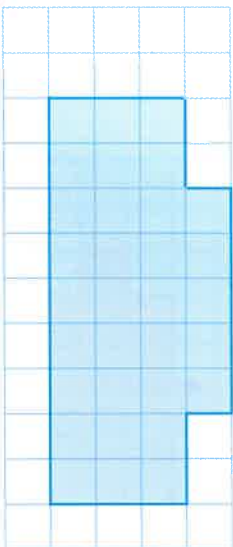
...



CALCULS D'AIRES ★

3

Calcule l'aire de la figure.




A carreaux



CALCULS D'AIRES ★

4

Calcule l'aire de la figure.



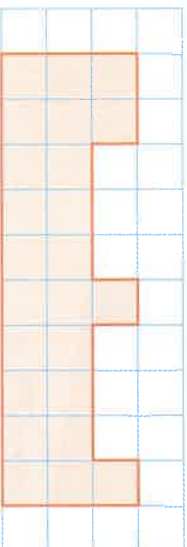
A carreaux



FRACTIONS

5

Calcule l'aire de la figure.



A carreaux