




CALCULS D'AIRES ★

10

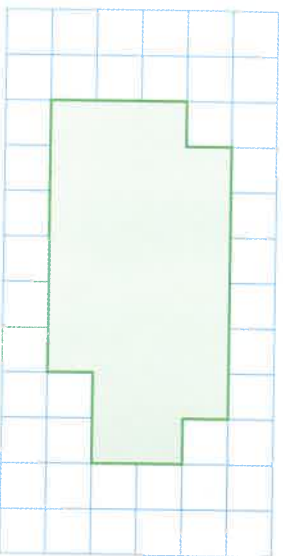
Construis deux polygones différents à plus de 6 côtés dont l'aire mesure 24 carreaux.



CALCULS D'AIRES ★

11

Calcule l'aire de la figure.




A carreaux



CALCULS D'AIRES ★

12

Construis deux rectangles différents dont l'aire mesure 12 carreaux.



CALCULS D'AIRES ★

13

L'aire de la figure 1 fait 40 cm². Quelle est l'aire de la figure 2 ?
Les deux figures ci-dessous sont réduites.



Figure 1



Figure 2

Aire figure 2 = cm²