



CALCUL MENTAL

Présenter un nombre de jetons ≤ 5 .
Dessiner le double de ces jetons.


- 1  Jules et Mara se partagent **12** billes. Ils en prennent chacun le même nombre. **Dessine** la part de chacun.




Nous en avons
chacun la **moitié**.




La moitié de **12**, c'est

- 2  Les lapins prennent chacun le même nombre de carottes.
* **Fais le partage puis complète.**





La moitié de **10**, c'est

- 3  On met le même nombre
de pommes dans chaque panier.
* **Fais le partage puis complète.**




La moitié de **8**, c'est

- 4  **Écris** le nombre de fraises
pour chaque enfant.
* Ils en prennent chacun la moitié.



La moitié de **14**, c'est

- 5  **Complète** les phrases.

- * La moitié de **4**, c'est La moitié de **12**, c'est
* La moitié de **2**, c'est La moitié de **16**, c'est
* La moitié de **6**, c'est La moitié de **18**, c'est

Fais un schéma sur ton cahier
pour trouver la réponse.

