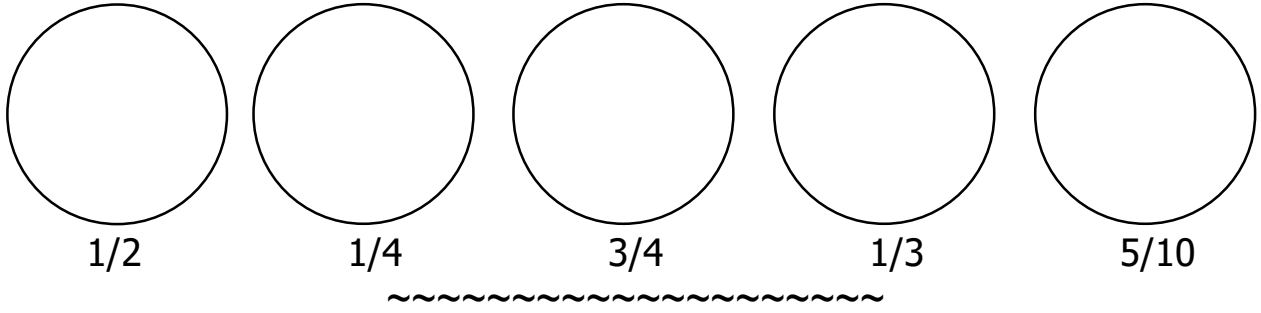


# LES FRACTIONS

↳ Compétence 1 : Je sais représenter une fraction courante.

↳ Consigne 1 : Colorie une partie de la figure correspondant à la fraction.



↳ Compétence 2 : Je sais nommer les fractions simples.

↳ Consigne 2 : Ecris en lettres les fractions suivantes.


$\frac{1}{2}$  : .....                       $\frac{1}{3}$  : .....  
 $\frac{1}{4}$  : .....                       $\frac{1}{10}$  : .....  
 $\frac{1}{100}$  : .....  
 ~~~~~

↳ Compétence 3 : Je sais placer une fraction sur une droite.

↳ Consigne 3 : Ecris les fractions sur la droite.  $\frac{2}{10}$  -  $\frac{6}{10}$  -  $\frac{8}{10}$  -  $\frac{11}{10}$  -  $\frac{14}{10}$



↳ Consigne 3bis : Ecris les fractions sur la droite.  $\frac{1}{4}$  -  $\frac{1}{2}$  -  $\frac{3}{4}$  -  $\frac{3}{3}$  -  $\frac{5}{4}$




↳ Prénom :

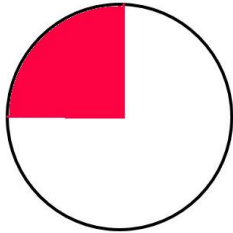
↳ Date :

CORRECTION

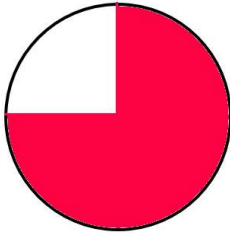
- ↳ Compétence 1 : Je sais représenter une fraction courante.
- ↳ Consigne 1 : Colorie une partie de la figure correspondant à la fraction.




1/2




1/4



3/4



1/3



5/10



- ↳ Compétence 2 : Je sais nommer les fractions simples.
- ↳ Consigne 2 : Ecris en lettres les fractions suivantes.

$\frac{1}{2}$  : un demi

$\frac{1}{3}$  : un tiers

$\frac{1}{4}$  : un quart

$\frac{1}{10}$  : un dixième

$\frac{1}{100}$  : un centième



- ↳ Compétence 3 : Je sais placer une fraction sur une droite.
- ↳ Consigne 3 : Ecris les fractions sur la droite. 2/10 - 6/10 - 8/10 - 11/10 - 14/10



- ↳ Consigne 3bis : Ecris les fractions sur la droite. 1/4 - 1/2 - 3/4 - 3/3 - 5/4

